

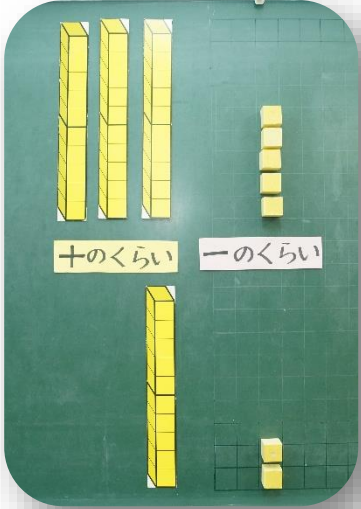
4月13日～17日のさんすうのしゅくだいは、たしざん(ひっさん)です。さんすうプリントでけいさんのしかたをたしかめて、けいさんドリル⁵をするといいですよ。

4月13日、14日は、さんすうで、たしざんのしかたをたしかめました。

もんだい 35円のドーナツと12円のわたがしをかいます。だい金はいくらになりますか。

しき $35+12$

けいさんのしかたは？



35をブロックであらわすと・・・


12をブロックであらわすと・・・

あわせると・・・
ばらどうし(一のくらい)は7
10のまとまり(十のくらい)は4


2けたのかずのたしざんは、10のまとまりどうし(十のくらい)、ばらどうし(一のくらい)にわけてけいさんします。

ひっさんというけいさんのしかたができます。(14～15ページ)

☆ひっさんのしかた




①くらいをたてにそろえて書く。



②一のくらのけいさんをする。

$$5+2=7$$



③十のくらのけいさんをする。

$$3+1=4$$

10が4こだね。

$$35+12=47$$

こたえ47円